






MASSE	Séquence 1	Séance 2
CE1	TRACE ÉCRITE SANS CONCLUSION	

	<p>Quel est l'objet le plus lourd ?</p> <p>Chaque groupe d'élèves a une bouteille dont la masse est différente. Les deux bouteilles pèsent entre 4 et 5 pavés alors qu'elles n'ont pas la même masse.</p>	
		
	<p>La bouteille G pèse</p> <p>La bouteille H pèse</p>	
	<p>.....</p> <p>.....</p>	
	<p>.....</p> <p>.....</p> <p>.....</p> <p>.....</p>	